

# IQ тест

1) Решите анаграммы и исключите лишнее слово

- A) САИВЛ      B) РЕОХ  
C) ШПАУК      D) ШРАУГ

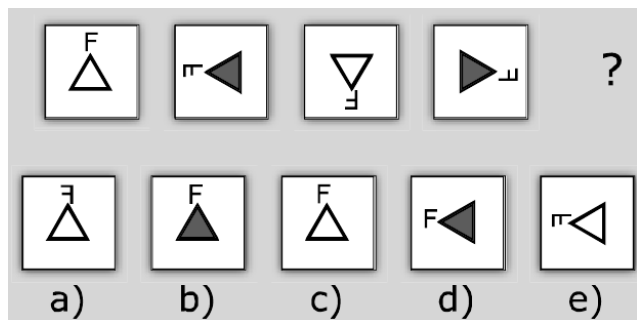
2) Каким понятием из предложенных вариантов можно заменить вопросительный знак?

ВОЛОСЫ → КОЖА

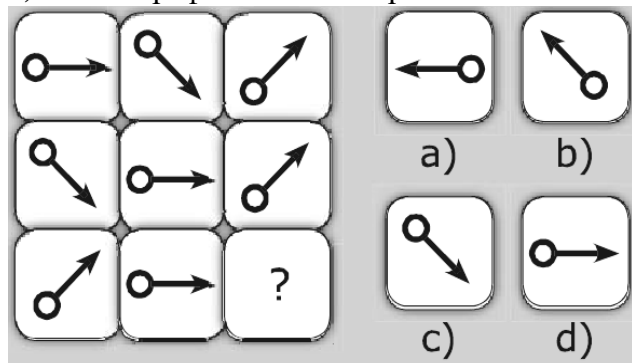
ЦВЕТOK → ?

- A) ГРЯДКА    B) КОРЕНЬ  
C) ЛУГ        D) ЗЕМЛЯ

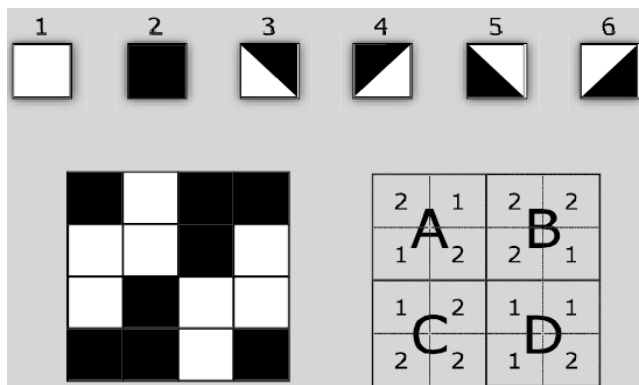
3) Каким графическим изображением можно продолжить данный ряд?



4) Каким графическим изображением можно заменить вопросительный знак?



5) В какой области (от А до D) скрывается ошибка?

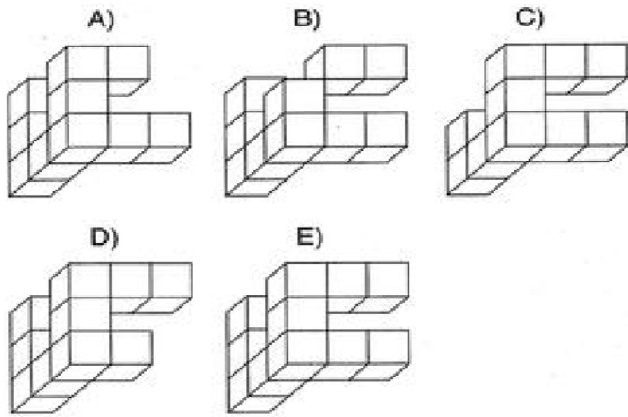
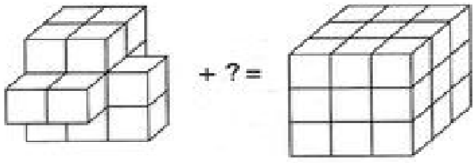


6) Вставьте пропущенное число

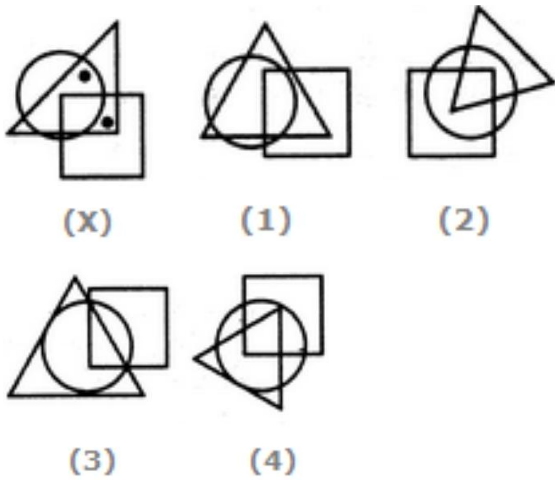
112 ( 190 ) 17

268 (    ) 107

7)



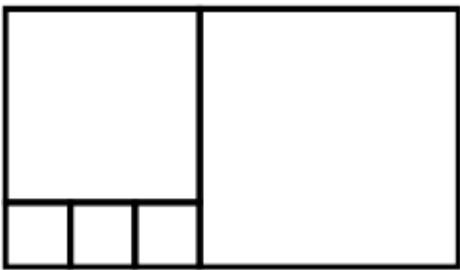
8) К какому квадрату можно добавить точки, чтобы он соответствовал приведенному условию?



9) Вставьте пропущенные числа

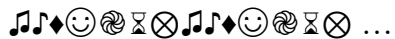
|   |    |    |    |   |
|---|----|----|----|---|
| 5 | 10 | 10 | 17 | ? |
| 8 | 7  | 13 | 14 | ? |

10) Прямоугольник состоит из пяти квадратов. Три маленьких квадрата имеют сторону, равную 1 см. Чему равен периметр прямоугольника?



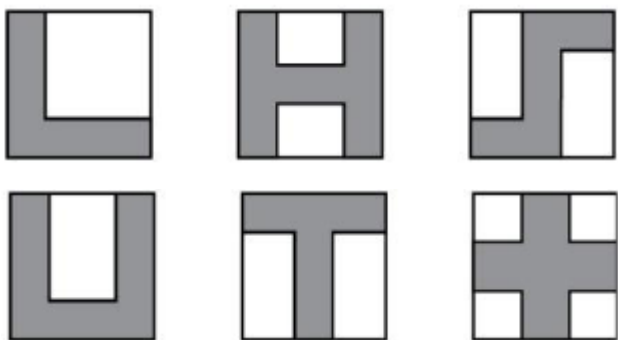
A) 11 см B) 22 см C) 24 см D) 28 см

11) Символы повторяются показано как ниже. Какой символ будет на 222 месте?



A) ♪ B) ☒ C) ☉ D) 😊

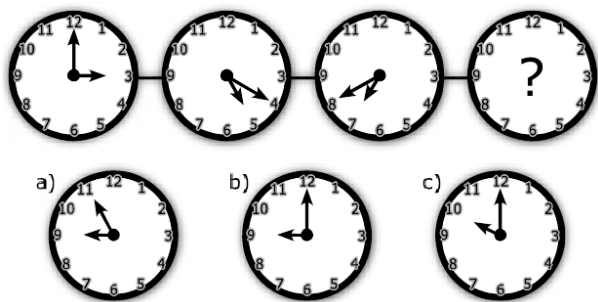
12) Маша нарисовала на квадратных листках бумаги несколько фигурок (их стороны параллельны краям листа).




Сколько из них имеют такой же периметр, как и сам лист бумаги?

A) 5 B) 4 C) 2 D) 0

13) Выберите вариант, который может заменить вопросительный знак




14) Вставьте пропущенное число



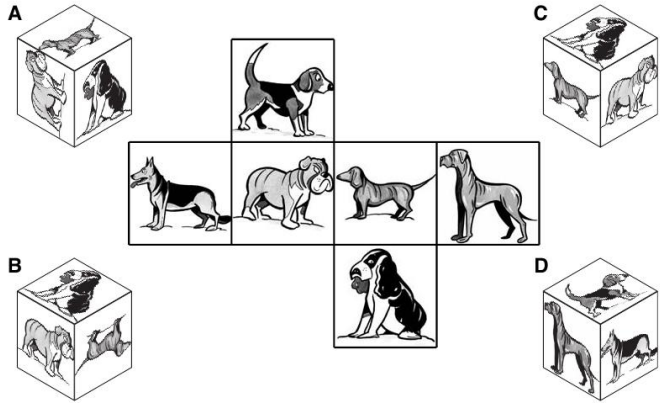
a) 12  
b) 1  
c) -2  
d) 8

15) Вставьте пропущенное число




- a) 184    b) 47    c) 72    d) 17

16) Какой из приведенных одинаковых фигур соответствует данная фигура?



17) Вставьте пропущенное число

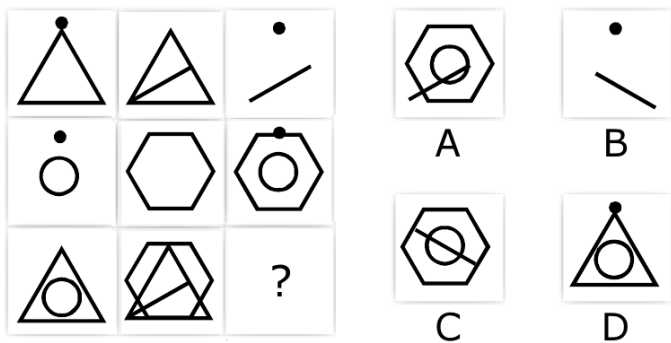


18) Вставьте пропущенное слово

КАРТ ( ТРАП ) ПАРТА

СНОП ( \_ \_ \_ \_ ) АЛМАЗ

19) Каким графическим изображением можно продолжить данный ряд?



20) Вставьте пропущенное число 71 68 77 50 ?